

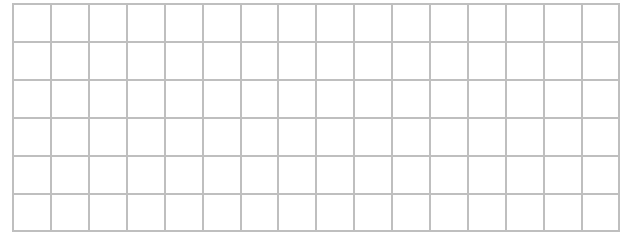
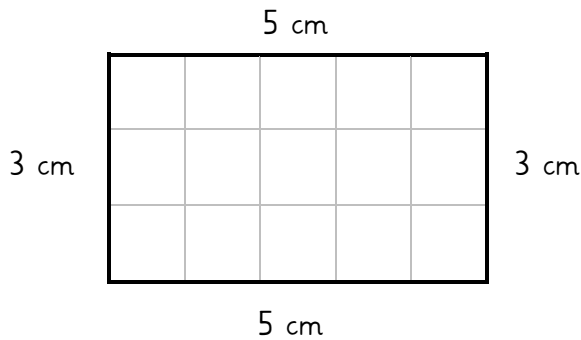


Umfang 2

Merke:


Der Umfang einer Figur bezeichnet die gesamte Länge seiner Außenseiten.

1. Berechne den Umfang der Figur in cm (Kästchenlänge).




Antwort: Der Umfang beträgt ____ cm.

2. Miss die Länge und die Breite des Rechtecks mit dem Lineal ab.
Schreibe die Seitenlängen in cm auf und berechne den Umfang.



Antwort: _____

3. Ein Rechteck hat eine Länge von 50 cm und eine Breite von 65 cm. Wie groß ist sein Umfang in m? Zeichne eine Skizze.



Antwort: _____